

Θέμα 2^ο

2.1

A) Δίνεται το ${}_{16}^{32}\text{S}$. Να μεταφέρετε στην κόλλα σας συμπληρωμένο τον παρακάτω πίνακα που αναφέρεται στο άτομο του θείου:

Υποατομικά σωματίδια				ΣΤΙΒΑΔΕΣ		
	p	n	e	K	L	M
S	16			2		

(μονάδες 4)

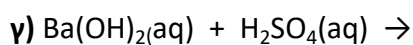
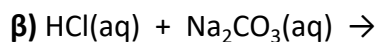
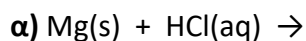
B) Τι είδους δεσμός αναπτύσσεται μεταξύ του ${}_{17}\text{Cl}$ και του ${}_{19}\text{K}$, ιοντικός ή ομοιοπολικός;

(μονάδα 1)

Να αιτιολογήσετε την απάντησή σας, περιγράφοντας τον τρόπο σχηματισμού του δεσμού.

(μονάδες 7)

2.2. Να συμπληρώσετε τις χημικές εξισώσεις (προϊόντα και συντελεστές) των παρακάτω αντιδράσεων που γίνονται όλες.



(μονάδες 9)

Να αναφέρετε το λόγο που γίνονται οι παραπάνω αντιδράσεις **α** και **β**.

(μονάδες 4)